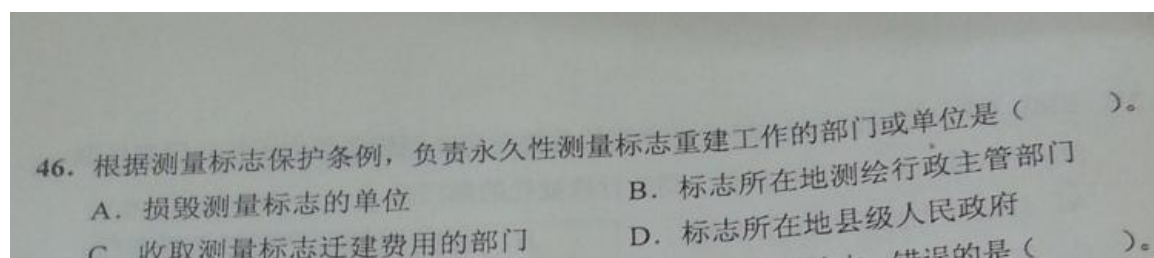
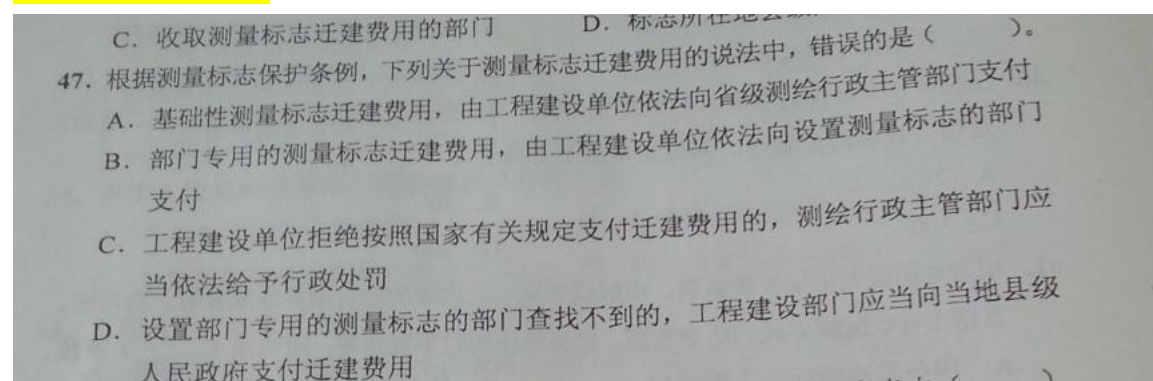


本次 2013 年注册测绘师《法律法规》部分考题解译由孙瑞主稿，鹤乡游侠参与修订整理，鉴于时间仓促，不足之处请大家提出宝贵建议。



正确答案 46 C

依据：第二十一条 永久性测量标志的重建工作，由收取测量标志迁建费用的部门组织实施。



正确答案 47 D

依据：第二十条 经批准拆迁基础性测量标志或者使基础性测量标志失去使用效能的，工程建设单位应当按照国家有关规定向省、自治区、直辖市人民政府管理测绘工作的部门支付迁建费用。

经批准拆迁部门专用的测量标志或者使部门专用的测量标志失去使用效能的，工程建设单位应当按照国家有关规定向设置测量标志的部门支付迁建费用；设置部门专用的测量标志的部门查找不到的，工程建设单位应当按照国家有关规定向省、自治区、直辖市人民政府管理测绘工作的部门支付迁建费用。

48. 拆迁基础性测量标志或者使基础性测量标志失去使用效能的，应当由（ ）批准。
- A. 国务院测绘行政主管部门
  - B. 省级测绘行政主管部门
  - C. 标志所在地的市级测绘行政主管部门
  - D. 国务院测绘行政主管部门或者省级测绘行政主管部门

正确答案 48 D

依据：（一）拆迁基础性测量标志或者使基础性测量标志失去使用效能的，由国务院测绘行政主管部门或者省、自治区、直辖市人民政府管理测绘工作的部门批准。

49. 根据《测绘成果质量检查与验收》，在抽样检查情况下，样本质量得分 S 为（ ）。
- A. 单位成果质量得分的加权平均值
  - B. 单位成果质量得分的算术平均值
  - C. 单位成果质量得分的最小值
  - D. 单位成果质量得分的最大值

正确答案 49 A 参照 [测绘成果质量检查验收规定](#)

#### 4.4.3 样本单位质量评分方法

6

采用加权平均法计算样本单位质量得分。M 的值按下式计算：

$$M = \sum_{i=1}^n (M_{ij} \times p_i)$$

50. 根据《数字测绘成果质量检查与验收》，下列检查项中，属于“地理表达”质量子元素检查内容的是（ ）。
- A. 要素关系
  - B. 注记配置
  - C. 符号配置
  - D. 几何异常

正确答案 50 A 参照 [GB\\_T18316-2008数字测绘成果质量检查与验收](#)

地理表达	要素取舍	检查要素取舍错误的个数	矢量成果
	图形概括	检查图形概括错误的个数。如地物地貌局部特征细节丢失、变形	矢量成果
	要素关系	检查要素关系错误的处数	矢量成果
	方向特征	检查要素方向特征错误的个数	矢量成果

51. 根据《数字测绘成果质量检查与验收》，单位成果质量评定等级为良级的，其质量得分  $S$  的分值应为（ ）。

- A.  $65 \text{ 分} \leq S < 90 \text{ 分}$                       B.  $70 \text{ 分} \leq S < 90 \text{ 分}$   
C.  $75 \text{ 分} \leq S < 90 \text{ 分}$                       D.  $80 \text{ 分} \leq S < 90 \text{ 分}$

正确答案 51 C 本体不予解释

52. 根据《国家基本比例尺地形图更新规范》，原图内的地物要素变化率为（ ）时，宜进行修测更新。

- A.  $5\% \sim 30\%$                                       B.  $10\% \sim 40\%$   
C.  $15\% \sim 50\%$                                       D.  $20\% \sim 50\%$

正确答案 52 B 参照对应规范《国家基本比例尺地形图更新规范》。

4.5.2.2 出现下列情况之一时，宜进行修测更新：

- a) 地物要素变化率超过  $10\%$ ，但小于  $40\%$ ；  
b) 原图内某种重要地物位置发生变化。

53. 根据《测绘管理工作国家秘密范围的规定》，下列事项中，属于机密级国家秘密范围的是（ ）。

- A. 公开或泄露会使保护国家秘密的措施可靠性降低或者失效的  
B. 公开或泄露会削弱国家局部军事防御能力和重要武器装备克敌效能的  
C. 公开或泄露会对国家军事设施、重要工程安全造成威胁的  
D. 公开或泄露会对国家安全警卫目标、设施的安全造成严重威胁的

正确答案 53 D

解析：第二条 测绘管理工作中的国家秘密范围：

一、绝密级范围

(一) 公开或泄露会严重损害国家安全、领土主权、民族尊严的；

(二) 公开或泄露会导致严重外交纠纷的；

(三) 公开或泄露会严重威胁国防战略安全或削弱国家整体军事防御能力的。

二、机密级范围

(一) 公开或泄露会对国家重要军事设施的安全造成严重威胁的；

(二) 公开或泄露会对国家安全警卫目标、设施的安全造成严重威胁的。

### 三、秘密级范围

- (一) 公开或泄露会使保护国家秘密的措施可靠性降低或者失效的；
- (二) 公开或泄露会削弱国家局部军事防御能力和重要武器装备克敌效能的；
- (三) 公开或泄露会对国家军事设施、重要工程安全造成威胁的。

54. 根据《基础测绘成果提供使用管理暂行办法》，下列说法中，不属于使用基础测绘成果申请条件的是（ ）。

A. 有明确、合法的使用目的

B. 申请的基础测绘成果范围、种类、精度与使用目的相一致

C. 符合国家的保密法律法规及政策

D. 有相应的测绘资质

正确答案 54 D

55. 根据《基础地理信息数据档案管理与保护规范》，基础地理信息数据档案的储存环境要求是（ ）。

A. 温度选定范围为 $-5^{\circ}\text{C}\sim 0^{\circ}\text{C}$ ，相对湿度选定范围为 $15\%\sim 25\%$

B. 温度选定范围为 $10^{\circ}\text{C}\sim 15^{\circ}\text{C}$ ，相对湿度选定范围为 $25\%\sim 35\%$

C. 温度选定范围为 $17^{\circ}\text{C}\sim 20^{\circ}\text{C}$ ，相对湿度选定范围为 $35\%\sim 45\%$

D. 温度选定范围为 $20^{\circ}\text{C}\sim 23^{\circ}\text{C}$ ，相对湿度选定范围为 $35\%\sim 45\%$

正确答案 55 C

56. 根据《基础地理信息数据档案管理与保护规范》，基础地理信息数据磁带应放在距钢筋房柱或类似结构物（ ）cm 以外处。

A. 5

B. 10

C. 20

D. 30

正确答案 56 B

57. 测绘工程费结算的主要依据是（ ）。

A. 测绘生产成本费用定额

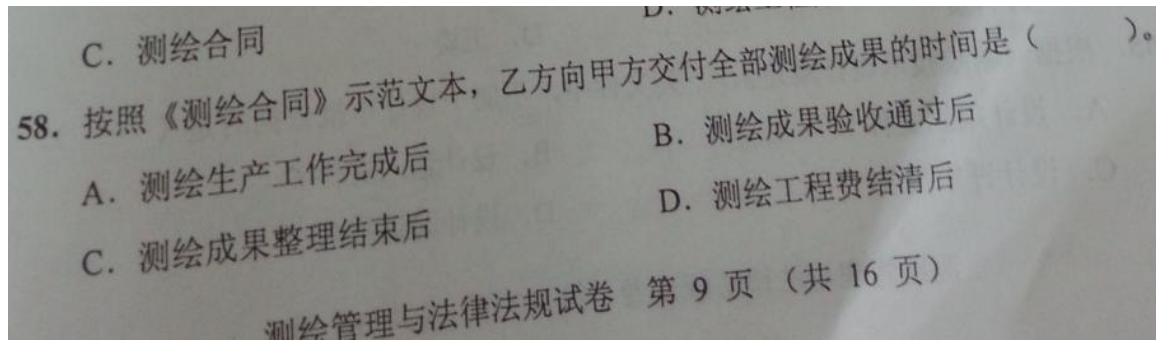
B. 测绘工程产品价格

C. 测绘合同

D. 测绘工程成本预算

正确答案 57 C (待定)






正确答案 58 D (有争议, 请查阅《测绘合同》相关资料)

#### 第十一条

1、自测绘工程费全部结清之日起 日内, 乙方根据技术设计书的要求向甲方交付全部测绘成果。(见下表)

59~65 缺题



正确答案 66 B 根据法律法规教材 135~136 页

## 5. 设计方案

(1)软件和硬件配置要求。规定测绘生产过程中的硬、软件配置要求,主要包括:①硬件,规定对生产过程所需的主要测绘仪器、数据处理设备、数据存储设备、数据传输网络等设备的要求。其他硬件配置方面的要求(如对于外业测绘,可根据作业区的具体情况,规定对生产所需的主要交通工具、主要物资、通信联络设备以及其他必需的装备等要求)。②软件,规定对生产过程中主要应用软件的要求。

(2)技术路线及工艺流程。说明项目实施的主要生产过程和这些过程之间输入、输出的接口关系。必要时,应用流程图或其他形式清晰、准确的规定出生产作业的主要过程和接口关系。

[www.topsage.com](http://www.topsage.com)

136


测绘管理与法律法规

大家论坛  
TopSage.com

(3)技术规定。主要内容包括:①规定各专业活动的主要过程、作业方法和技术、质量要求。②特殊的技术要求,采用新技术、新方法、新工艺的依据和技术要求。

(4)上交和归档成果(或产品)及其资料内容和要求。分别规定上交和归档的成果(或产品)内容、要求和数量,以及有关文档资料的类型、数量等,主要包括:①成果数据:规定数据内容、组织、格式,存储介质,包装形式和标识及其上交和归档的数量等。②文档资料:规定需上交和归档的文档资料的类型(包括技术设计文件、技术总结、质量检查验收报告、必要的文档簿、作业过程中形成的重要记录等)和数量等。

(5)质量保证措施和要求。



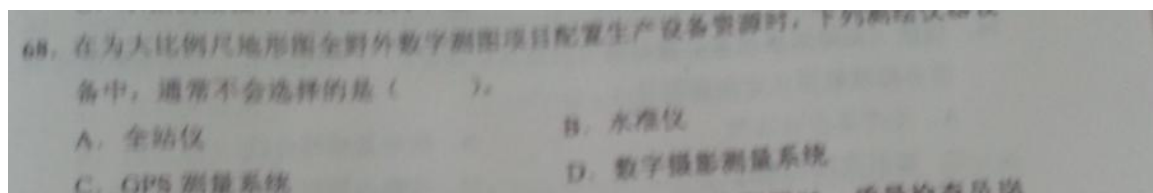
正确答案 67 D

### 5.6.2 设计审批的依据

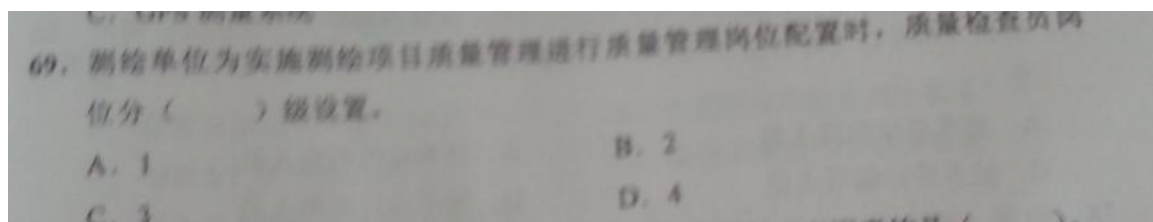
设计审批的依据主要包括设计输入内容、设计评审和验证报告等。

### 5.6.3 设计审批方法

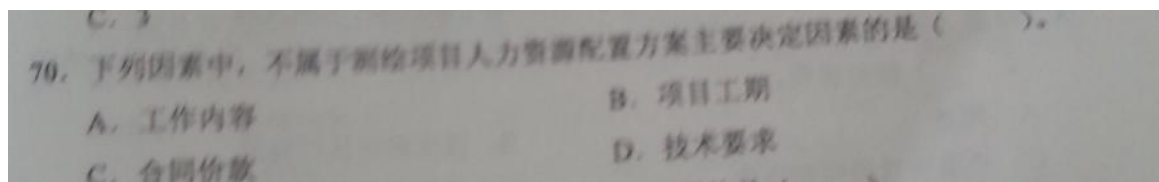
5.6.3.1 技术设计文件报批之前,承担测绘任务的法人单位必须对其进行全面审核,并在技术设计文件和(或)产品样品上签署意见并签名(或章)。



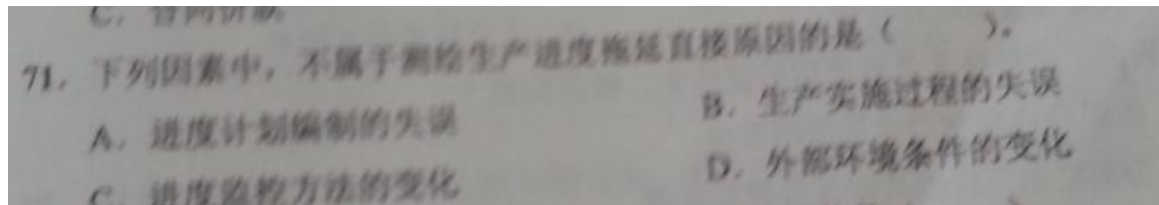
正确答案 68 D



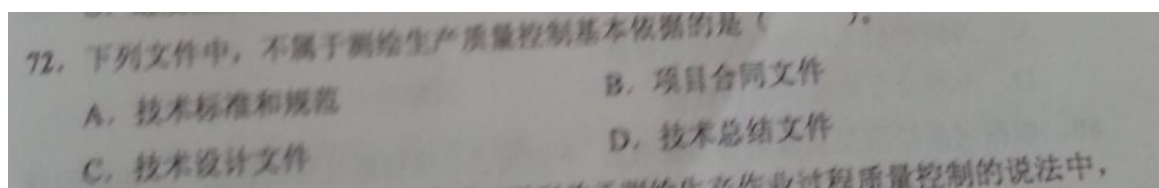
正确答案 69 C(待定)



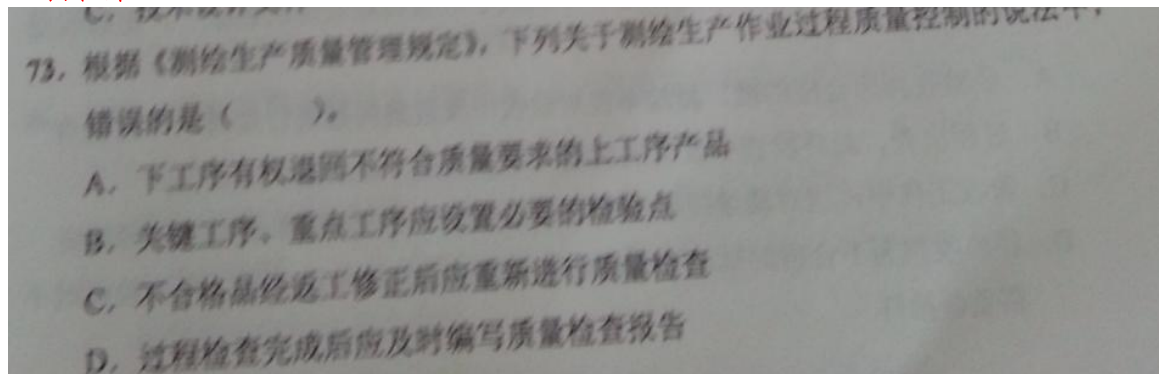
正确答案 70 C



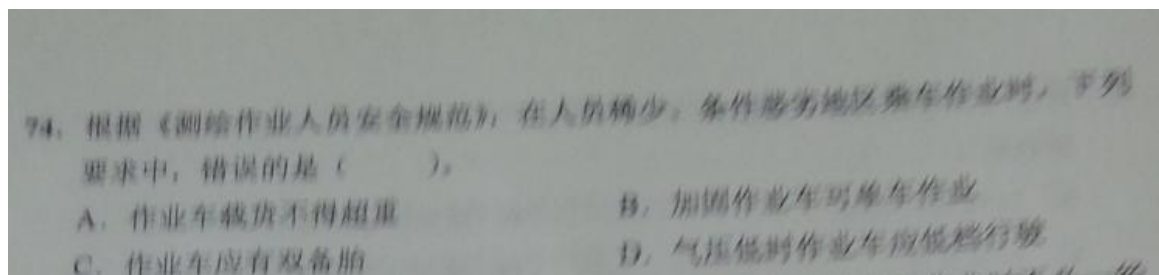
正确答案 71 C



正确答案 72 D



正确答案 73 D



正确答案 74 B

### 5.2.1.2 行车前的准备

5.2.1.2.1 编制行车计划,明确负责人。单车行驶,应配有押车人员。

5.2.1.2.2 外业生产车辆应配备必要的检修工具和通信设备。

5.2.1.2.3 驾驶员应检查各部件是否灵敏,油、水是否足够,轮胎充气是否适度,应特别注意检查传动系统、制动系统、方向系统、灯光照明等主要部件是否完好,发现故障即行检修,禁止勉强出车。

5.2.1.2.4 机动车载货不得超过行驶证上核定的重量。运送的物资器材须装牢捆紧,其重量要分布均匀。

5.2.1.2.5 在戈壁、沙漠和高原等人员稀少、条件恶劣的地区应采用双车作业,作业车辆应加固,配备适宜的轮胎,每车应有双备胎。

75. 根据《测绘作业人员安全规范》,下列常见病中,在高海拔地区作业时不必一经发现即采取治疗措施的是( )。

A. 紫外线灼伤                      B. 感冒  
C. 高原反应                         D. 冻伤

正确答案 75 A

76. 根据《测绘成果质量监督检查与数据认定规定》,下列内容中,不属于基础地理信息标准数据认定内容的是( )。

A. 生产单位合法性                      B. 数学基础符合性  
C. 数据资料完整性                      D. 数据内容符合性

正确答案 76 C

### 7.2 认定内容

#### 7.2.1 生产单位合法性

基础地理信息数据生产单位是否具有相应的测绘资质及业务范围。

#### 7.2.2 数学基础符合性

平面坐标系、高程系、比例尺、地图投影方式、分幅及编号是否符合 GB 21139—2007 第4章的要求。

#### 7.2.3 数据内容符合性

数据内容是否属于基础地理信息标准数据所需要认定的范畴,数据内容是否完整并符合设计书要求等。

#### 7.2.4 生产过程符合性

77. 根据《测绘技术总结编写规定》,下列技术人员中,对技术总结编写质量负责的是( )。

A. 技术总结编写人员                      B. 技术总结审核人员  
C. 技术设计编写人员                      D. 技术设计审核人员

正确答案 77 B

3.3 项目总结由承担项目的法人单位负责编写或组织编写;专业技术总结由具体承担相应测绘专业任务的法人单位负责编写。具体的编写工作通常由单位的技术人员承担。技术总结编写完成后,单位总工程师或技术负责人应对技术总结编写的客观性、完整性等进行审核并签字,并对技术总结编写的质量负责。技术总结经审核、签字后,随测绘成果(或产品)、测绘技术设计文件和成果(或产品)检查报告一并上交和归档。



78. 根据《测绘技术总结编写规定》,“任务的安排与完成情况”应在技术总结的( )部分说明。

- A. 概述
- B. 技术设计执行情况
- C. 成果质量说明和评价
- D. 上交成果及其清单

正确答案 78 A

79. 下列关于测绘技术总结作用的说法中,错误的是( )。

- A. 为用户合理使用成果提供方便
- B. 为测绘单位持续质量改进提供依据
- C. 为测绘技术标准制定提供资料
- D. 为测绘市场监管提供依据

正确答案 79 D

80. 根据《测绘成果质量检查与验收》,下列关于质量问题处理的说法中,正确的是( )。

- A. 经验收判为合格的批,测绘单位对验收中发现的问题进行处理,不需复查
- B. 过程检查、最终检查中发现的质量问题应改正,直至检查无误为止
- C. 验收工作中,当对质量问题的判定存在分歧时,由测绘单位总工程师裁定
- D. 经验收判为不合格的批,要将检验批全部退回测绘单位处理,再次验收时不需重新抽样

正确答案 80 B

81. 根据《基础地理信息城市数据库建设规范》,数据入库前检查的依据包括( )。

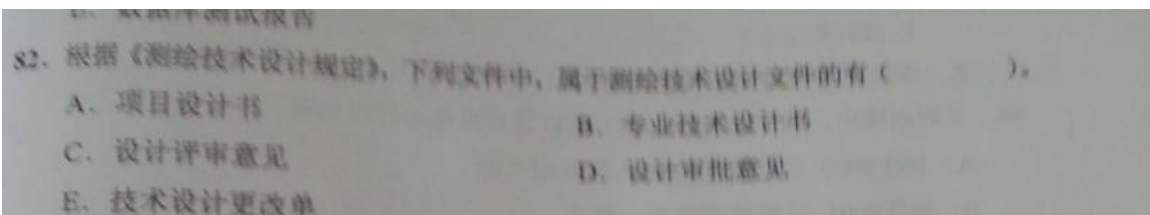
- A. 数据库设计中对数据的技术要求
- B. 数据生产技术设计书
- C. 数据生产技术总结
- D. 数据生产的数据检查报告
- E. 数据库测试报告

正确答案 81 ABCD

#### 7.4.1 数据入库前检查依据

数据入库前检查的依据包括:

- a) 数据库设计中对数据的技术要求;
- b) 数据生产技术设计书和有关技术规定;
- c) 数据生产技术总结;
- d) 数据生产的数据检查报告。

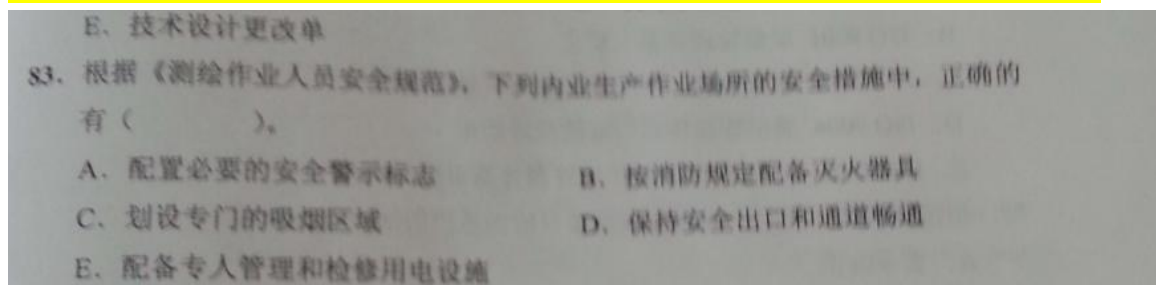


正确答案 82 AB (待定)

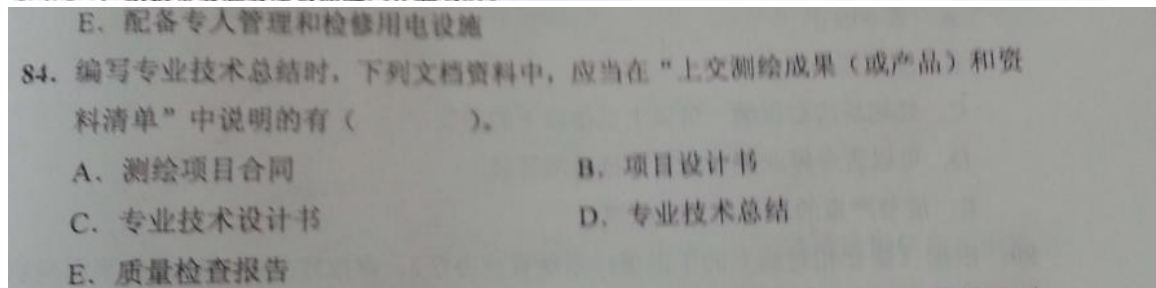
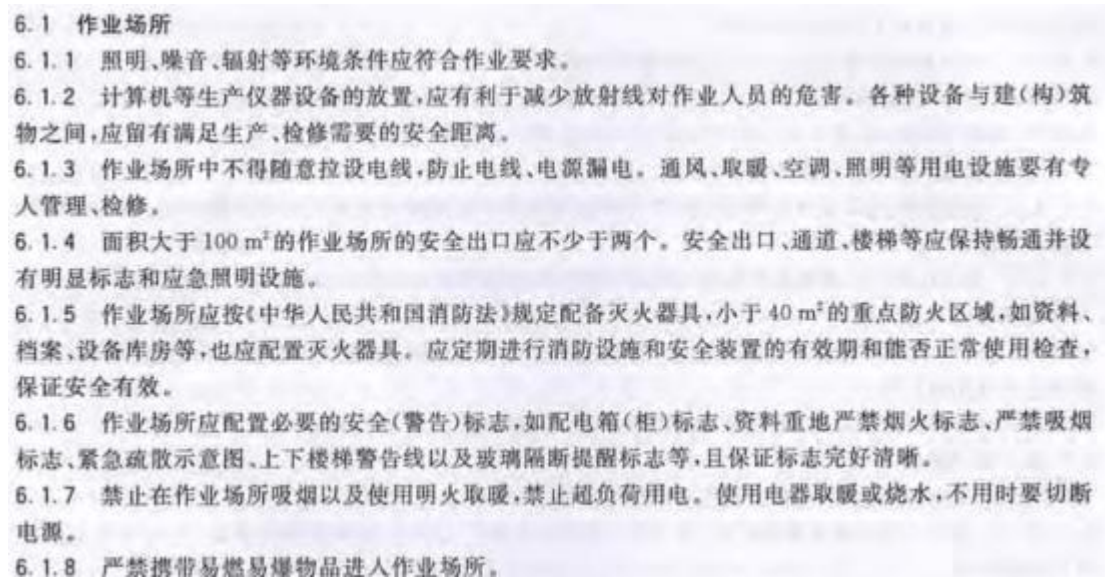
### 3. 测绘技术设计文件

测绘技术设计文件是为测绘成果(或产品)固有特性和生产过程或体系提供规范性依据的文件,是设计形成的结果,也是影响测绘成果(或产品)能否满足顾客要求和技术标准的关键因素。主要包括项目设计书、专业技术设计书以及相应的技术设计更改文件。

(个人观点)首先选项是技术设计更改单,和教材的技术设计更改文件不符合,一般的工程项目施工中,经常报批变更业务联系单,这个联系单是施工方发给监理方的变更申请提请,然后经过设计变更后形成正式的变更文件(及设计业务联系单)才下发到施工方的手里。



正确答案 83 ABDE



正确答案 84 CDE

#### 4. 上交和归档测绘成果(或产品)及资料清单

说明上交测绘成果(或产品)和资料的主要内容和形式,主要包括:

(1)测绘成果(或产品)。说明其名称、数量、类型等,当上交成果的数量或范围有变化时需附上上交成果分布图。

(2)文档资料。专业技术设计文件、专业技术总结、检查报告,必要的文档簿(图历簿)以及其他作业过程中形成的重要记录。

(3)其他需上交和归档的资料。

85. 根据《测绘成果质量检查与验收》,单位成果质量评定为不合格的情况有( )。

- A. 单位成果中出现 A 类错漏
- B. 质量元素质量得分小于 60 分
- C. 高程精度检测粗差比例超过 5%
- D. 平面位置精度检测粗差比例超过 3%
- E. 相对位置精度检测粗差比例超过 3%

正确答案 85 ABC

#### 5.5 单位成果质量评定

5.5.1 当单位成果出现以下情况之一时,即判定为不合格:

- a) 单位成果中出现 A 类错漏;
- b) 单位成果高程精度检测、平面位置精度检测及相对位置精度检测,任一项粗差比例超过 5%;
- c) 质量元素质量得分小于 60 分。

86. 根据《测绘成果质量检查与验收》,下列空中三角测量成果质量错漏中,属于 B 类的有( )。

- A. 基本定向点残差超限
- B. 像点量测误差超限
- C. 内定向超限
- D. 控制点的布设不符合要求
- E. 高程多余控制点误差超限

正确答案 86 BE

表 34 空中三角测量成果质量错漏分类表

质量元素	A 类	B 类	C 类	D 类
数学基础	1. 数学基础错 2. 相机文件、相机焦距和外业控制点坐标等各种原始数据用错、抄错 3. 其他严重的错漏			其他轻微的错漏



表 34 (续)

质量元素	A类	B类	C类	D类
平面位置精度	1. 基本定向点残差超限 2. 平面控制点、加密点平面位置精度超限 3. 平面控制点定向不合理 4. 其他严重的错漏	1. 像点量测误差超限 2. 平面多余控制点误差超限 3. 其他较重的错漏		其他轻微的错漏
高程精度	1. 基本定向点残差超限 2. 高程控制点、加密点高程精度超限 3. 高程控制点定向不合理 4. 其他严重的错漏	1. 像点量测误差超限 2. 高程多余控制点误差超限 3. 其他较重的错漏		其他轻微的错漏
接边精度	1. 区域网间加密点接边大多数超限或未接边 2. 其他严重的错漏	1. 区域网间加密点接边是个别超过规定限值 2. 其他较重的错漏		其他轻微的错漏
计算质量	1. 内定向误差 2. 基本定向点“权”明显不合理的 3. 其他严重的错漏	1. 内定向或相对定向的残余上下视差误差超过规定限差的0.5倍 2. 其他较重的错漏	1. 相对定向中标准点、检查点残余上下视差超限 2. 控制点、加密点对测残差超限 3. 相对定向的残余上下视差超限	其他轻微的错漏

87. 根据《公开地图内容表示若干规定》，下列关于公开地图比例尺规定的说法中，正确的有（ ）。

- A. 中国地图比例尺等于或小于1:100万
- B. 省、自治区地图比例尺等于或小于1:50万
- C. 直辖市地图比例尺等于或小于1:25万
- D. 辖区面积小于10万平方千米的省、自治区、直辖市地图比例尺等于或小于1:20万
- E. 香港、澳门特别行政区和台湾省地图比例尺不限

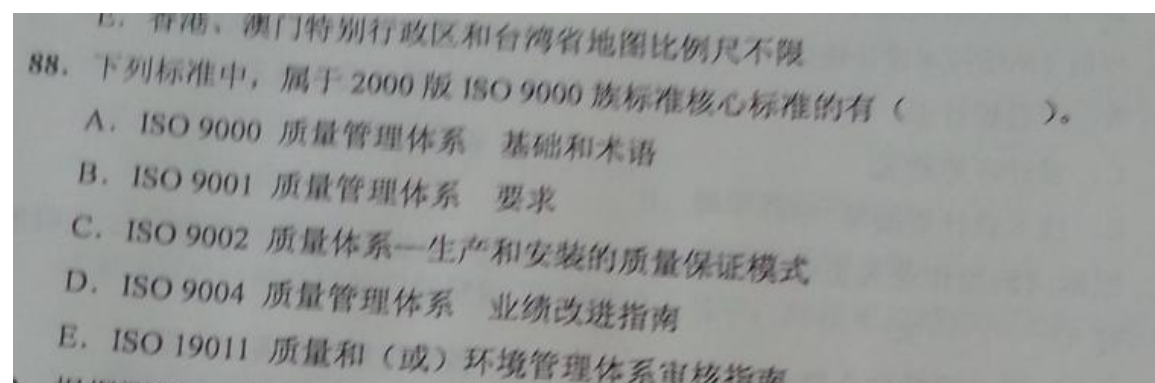
正确答案 87 ABCE

第四条 公开地图的比例尺、开本应符合以下规定：

- 1. 中国地图比例尺等于或小于1:100万；
- 2. 省、自治区地图，比例尺等于或小于1:50万；直辖市地图及辖区面积小于10万平方千米的省、自治区地图，比例尺等于或小于1:25万；
- 3. 市、县地图，开幅为一个全张，最大不超过两个全张；



4. 省、自治区、直辖市普通地图（集、册）（内容以政区为主），开本一般不超过 32 开本；
5. 香港特别行政区、澳门特别行政区地图、台湾省地图，比例尺、开本大小不限；
6. 教学图、时事宣传图、旅游图、交通图、书刊插图和互联网上登载使用的各类示意性地图，

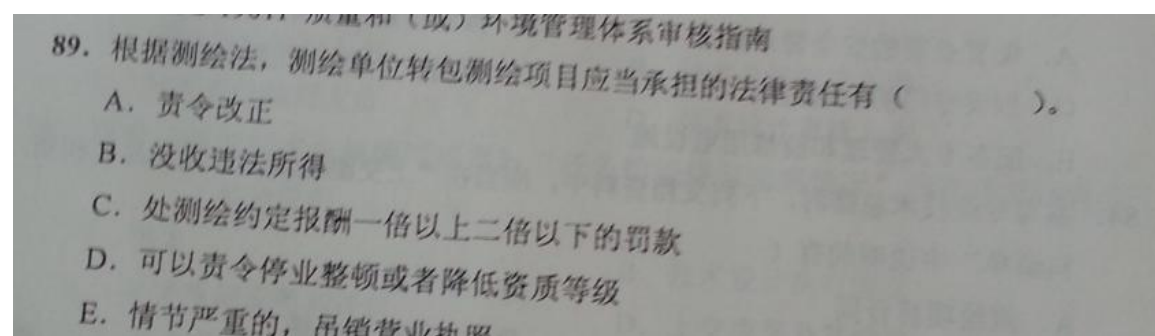


正确答案 88 ABDE

### 11.1.1 1987 版 ISO 9000 族标准

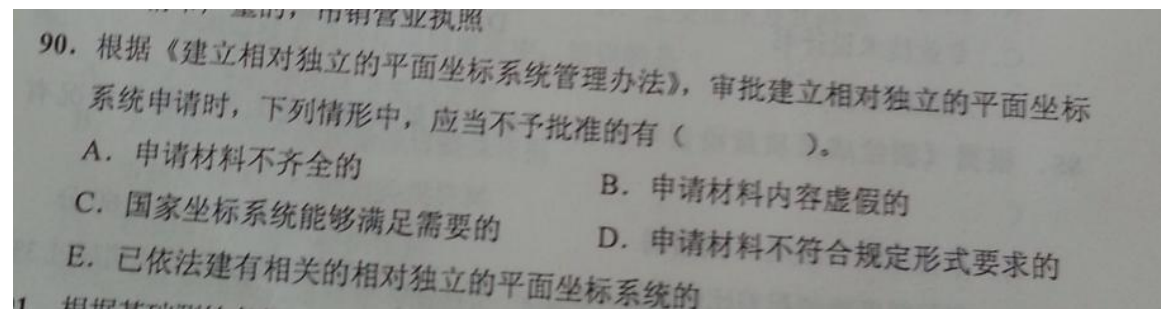
1987 版 ISO 9000 族标准首批发布 6 个标准：

- ①ISO 8402 质量 术语（该标准为 1986 年发布）；
- ②ISO 9000 质量管理和质量保证标准 选择和使用指南；
- ③ISO 9001 质量体系 开发设计、生产、安装和服务的质量保证模式；
- ④ISO 9002 质量体系 生产和安装的质量保证模式；
- ⑤ISO 9003 质量体系 最终检验和试验的质量保证模式；
- ⑥ISO 9004 质量管理和质量体系要素 指南。



正确答案 89 ABCD

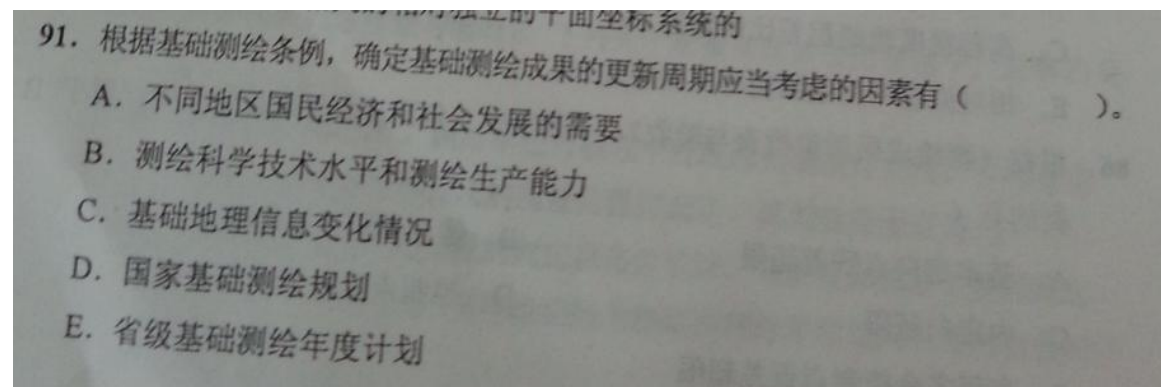
第四十五条 违反本法规定，测绘单位将测绘项目转包的，责令改正，没收违法所得，处测绘约定报酬一倍以上二倍以下的罚款，并可以责令停业整顿或者降低资质等级；情节严重的，吊销测绘资质证书。



正确答案 90 BCE

第十一条 有以下情况之一的，对建立相对独立的平面坐标系统的申请不予批准：

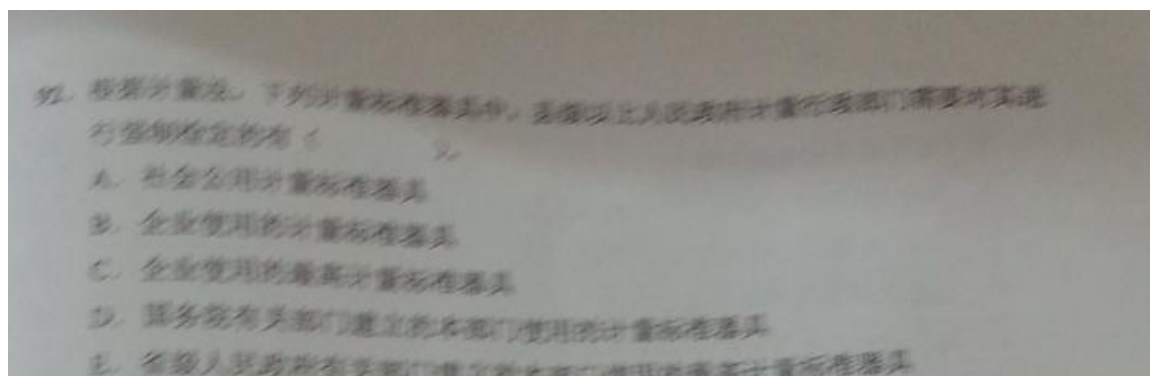
- （一）申请材料内容虚假的；
- （二）国家坐标系统能够满足需要的；
- （三）已依法建有相关的相对独立的平面坐标系统的；
- （四）测绘行政主管部门依法认定的应当不予批准的其他情形。



正确答案 91ABC

### 3) 定期更新

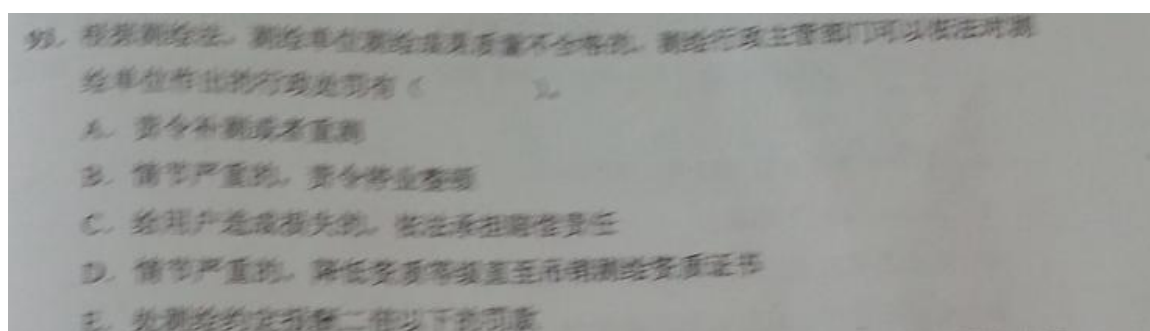
定期更新是基础测绘工作的重要原则，这一原则主要体现为基础测绘成果的定期更新。《测绘法》第十五条规定：基础测绘成果应当定期进行更新，国民经济、国防建设和社会发展急需基础测绘成果应当及时更新。基础测绘成果所反映的基础地理信息具有动态变化的特点，随着社会经济的发展和自然环境的变化，基础地理信息的内容需要不断进行更新，才能真实反映地理信息和人文要素的现势状态，为国民经济和社会发展提供及时、准确的测绘保障服务。所谓“定期更新”，就是根据地表景观的变化情况、社会经济发育的速度、国家经济建设、国防建设和社会发展对不同基础测绘项目成果的现势性需求和政府财政支撑的能力，结合基础测绘生产能力和基础测绘成果更新的实际情况，合理确定基础测绘成果更新周期，建立健全基础地理信息的更新机制。定期更新制度的确立有利于从根本上改变基础测绘滞后于国民经济和社会发展的状况。



正确答案 92 AC

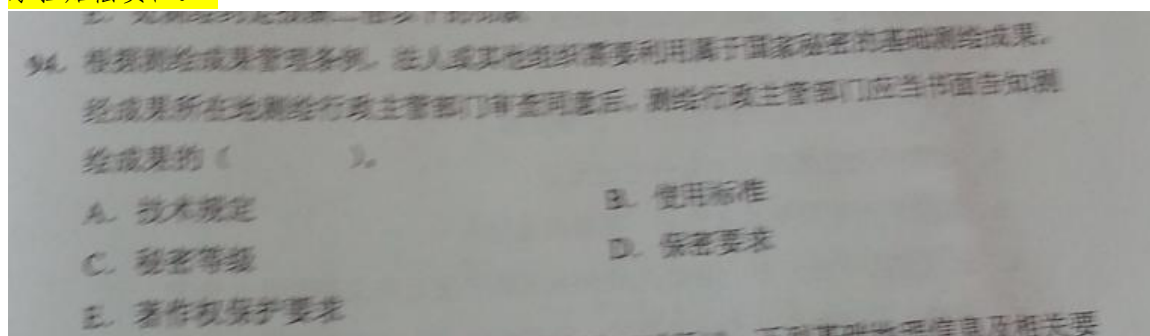
#### 2)对强制性检定的规定

县级以上人民政府计量行政部门对社会公用计量标准器具,部门和企业、事业单位使用的最高计量标准器具,以及用于贸易结算、安全防护、医疗卫生、环境监测方面的列入强制检定目录的工作计量器具,实行强制检定。未按照规定申请检定或者检定不合格的,不得使用。



正确答案 93 ABCD

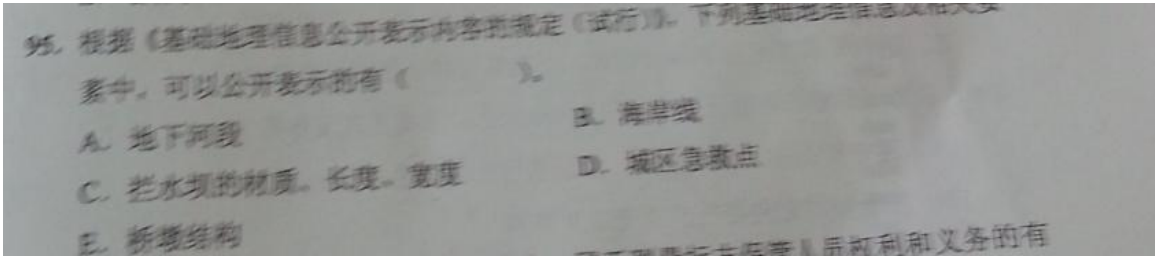
**第四十八条** 违反本法规定,测绘成果质量不合格的,责令测绘单位补测或者重测;情节严重的,责令停业整顿,降低资质等级直至吊销测绘资质证书;给用户造成损失的,依法承担赔偿责任。



正确答案 94 CDE

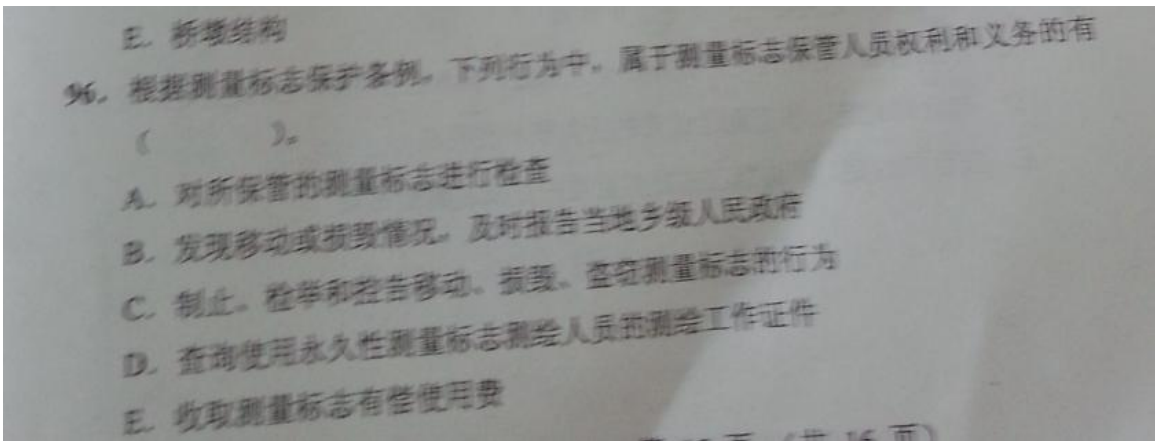
**第十七条** 法人或者其他组织需要利用属于国家秘密的基础测绘成果的,应当提出明确的利用目的和范围,报测绘成果所在地的测绘行政主管部门审批。

测绘行政主管部门审查同意的,应当以书面形式告知测绘成果的秘密等级、保密要求以及相关著作权保护要求。

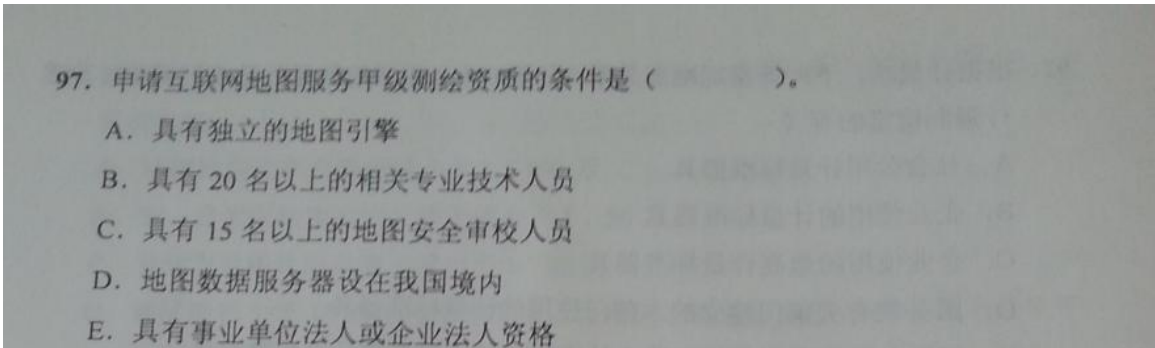


正确答案 95 ABD

地下河段			
坝	滚水坝	高度、材质、长度、 宽度不可公开	
	拦水坝		
	制水坝		
急救机构			
海洋要	海域	海域	
	海岸线	海岸线	海面平均大潮高潮时水陆分界的痕迹线



正确答案 96ABCD



正确答案 97 ABDE

3、本标准所称测绘相关专业技术人员,是指地质、水利、勘察、物探、道桥、工民建、规划、海洋勘测、土地资源管理、计算机等工程技术人员,或者能够提供其在校期间所学专



业开设测绘专业为必修课程证明的工程技术人员,但不得超过本标准对专业技术人员要求数量的 50%。申请地理信息系统工程、互联网地图服务资质的单位,测绘相关专业技术人员不得超过本标准对专业技术人员要求数量的 70%。

考核标准	
甲级	乙级
20 人（高、中级计算机专业技术人员 5 人，地图安全审校人员 5 人）	12 人（高、中级计算机 2 人，地图安全审校人
存放地图数据的服务器设在中华人民共和国境内	
独立地图引擎	无要求
无限额限制	专业范围 6、7、8 不得
使用经省级以上测绘行政主管部门审核批准的地图委	
地图安全审校人员应当经国家测绘局考核合格。	地图安全审校人员应当绘行政主管部门考核合

98. 根据《外国的组织或者个人来华测绘管理暂行办法》，下列关于外国的组织或者个人超出一次性测绘批准文件的内容从事测绘活动的法律责任的说法中，正确的有（ ）。

A. 撤销批准文件，责令停止测绘活动

B. 处 3 万元以下罚款

C. 对中方直接责任人员依法给予行政处分

D. 构成犯罪的，依法追究刑事责任

E. 责令限期离境

正确答案 98 ABCD

**第十八条** 违反本办法规定,有下列行为之一的,由国务院测绘行政主管部门撤销批准文件,责令停止测绘活动,处 3 万元以下罚款。有关部门对中方负有直接责任的主管人员和其他直接责任人员,依法给予行政处分;构成犯罪的,依法追究刑事责任。对形成的测绘成果依法予以收缴:

- (一) 以伪造证明文件、提供虚假材料等手段,骗取一次性测绘批准文件的;
- (二) 超出一次性测绘批准文件的内容从事测绘活动的。

99. 下列关于测绘作业证的说法中，正确的有（ ）。
- A. 过期不注册核准的测绘作业证无效
  - B. 测绘作业证只限本人使用，不得转借他人
  - C. 遗失测绘作业证的，测绘人员应当立即向发证机关书面报告情况
  - D. 测绘人员调往其他测绘单位的，原测绘作业证可变更使用
  - E. 进入军事禁区从事测绘活动，不能单纯持有测绘作业证件

正确答案 99 ABE

100. 根据《测绘市场管理暂行办法》，测绘合同承揽方的义务有（ ）。
- A. 遵守有关的法律、法规，全面履行合同，遵守职业道德
  - B. 按合同约定向委托方提交成果资料
  - C. 根据各省、自治区、直辖市的有关规定，向测绘主管部门备案登记测绘项目
  - D. 按合同约定，享有测绘成果的所有权和使用权
  - E. 按合同约定，不向第三方提供受委托完成的测绘成果

正确答案 100 ACE (本题存在争议，集中中 B 选项，是否要注明保证成果质量合格)

第十四条 承揽方的权利和义务。

承揽方的权利：

- (一) 公平参与市场场竞争；
- (二) 获得所承揽的测绘项目应得的价款；
- (三) 按合同约定享有测绘成果的所有权或使用权；
- (四) 拒绝委托方提出的违反国家规定的不正当要求；
- (五) 对由于委托方未履行合同而造成的经济损失提出赔偿要求。

承揽方的义务：

- (一) 遵守有关的法律、法规，全面履行合同，遵守职业道德；
- (二) 保证成果质量合格，按合同约定向委托方提交成果资料；
- (三) 根据各省、自治区、直辖市的有关规定，向测绘主管部门备案登记测绘项目；
- (四) 按合同约定，不向第三方提供受委托完成的测绘成果。